

Задание 1. Моя Родина

Часть А. Выберите правильный вариант ответа.

1. Площадь Беларуси равна:

- А. 207,65 км² Б. 405,96км²
В. 308,76 км² Г. 506,25км²

2. Какое озеро Беларуси самое большое по площади?

- А. Долгое Б. Нарочь
В. Минское море Г. Свитязь

3. С какой страной не граничит Беларусь?

- А. Россия Б. Эстония
В. Литва Г. Польша

4. С какой страной-соседкой длинна государственной границы составляет почти 1000 км?

- А. Россия Б. Украина
В. Латвия Г. Польша

5. Какое древнее племя проживало на территории современной Витебской области?

- А. Дреговичи Б. Радимичи
В. Кривичи Г. Белорусичи

6. Самым древним городом на территории Беларуси является:

- А. Минск Б. Туров
В. Брест Г. Полоцк

7. Какой белорусский город был первой столицей Великого Княжества Литовского?

- А. Брест Б. Новогрудок
В. Полоцк Г. Туров

8. На берегах реки Припять расселялись

- А. Дреговичи Б. Радимичи
В. Кривичи Г. Белорусичи





9. В каком древнем городе была река-улица?





- А. Туров Б. Полоцк
В. Минск Г. Гомель

10. В каком городе возведен памятник Рогнеде и Изяславу?

- А. Заславль Б. Полоцк
В. Молодечно Г. Новогрудок

Часть Б. Определите, каким городам принадлежат гербы и подпишите их.

КОМАНДА (УО)

Задание 2. Их знает вся страна

Определите и запишите, кто изображен на картинках.



Задание 3. Природа и география Беларуси

Часть А. Запишите ответы на вопросы

1. Это хищное растение произрастает на болотах Беларуси.
2. Самый большой национальный парк Беларуси.
3. Самый крупный зверь Беларуси.
4. Как называется черепаха, занесенная в Красную книгу Республики Беларусь?
5. Самыми распространенными породами деревьев в Беларуси являются ель, дуб, береза и:
6. Какая область Беларуси наиболее пострадала от Чернобыльской аварии 1986 года?
7. Самое глубокое озеро Беларуси:
8. В какое море впадает Западная Двина?
9. Как иногда называют белорусские болота?
10. Как называется гриб, произрастающий в Беларуси, достигающий до 150 см. в ширину и веса до 25 кг.?

Часть Б. Запишите названия животных и растений, занесенных в Красную книгу Республики Беларусь (без указания семейства и отряда/порядка). Найдите эти названия в филворде и обведите их (направления слева направо и сверху вниз).

1. Пресноводная рыба семейства осетровых с вытянутым телом, покрытым костными щитками, и длинным «носом»
2. Красивый водный цветок с белыми лепестками и жёлтой серединкой, который растёт в озёрах и прудах. Её большие, круглые листья плавают на воде, а длинный стебель тянется под воду к толстому корню на дне.
3. Лесной зверь среднего размера с массивным, клиновидным телом и короткими, сильными лапами с длинными когтями для рытья нор. Его главная особенность — это две чёрные полосы, идущие от носа к ушам, на фоне светлой морды
4. Маленькая, неядовитая змея, которую легко узнать по блестящей гладкой чешуе, слегка приплюснутой голове и округлым зрачкам. Её окрас может быть серым, коричневым или медным, и по спине идут тёмные пятна или полосы.
5. Маленькая сова. У неё серо-коричневое оперение, которое похоже на кору дерева и помогает ей прятаться от хищников. На спине и крыльях есть пятна и узоры, а грудь светлее.
6. Грызун. Самая крупная из сонь. Внешне напоминает миниатюрную серую белочку, но без кисточек на округлых ушах.
7. Вечнозелёное вьющееся растение, которое растёт на земле или взбирается по стенам с помощью воздушных корней.
8. Ароматное растение с серо-зелеными, бархатистыми листьями и сиреневыми или голубыми цветами, которое может помочь при простуде и успокоить

Ответ _____

9. Водное растение с круглыми плавающими листьями и яркими желтыми цветами. Цветки похожи на маленькие горшочки.
10. Птица средних размеров, похожая на голубя, с длинным клювом и пестрым коричневым оперением, которое помогает ей прятаться. У нее короткие ноги и крылья, а на крыльях и на брюшке есть белые полосы, которые хорошо видны в полете. Самцы и самки выглядят одинаково, а живут они в основном у водоемов и питаются червями и насекомыми.

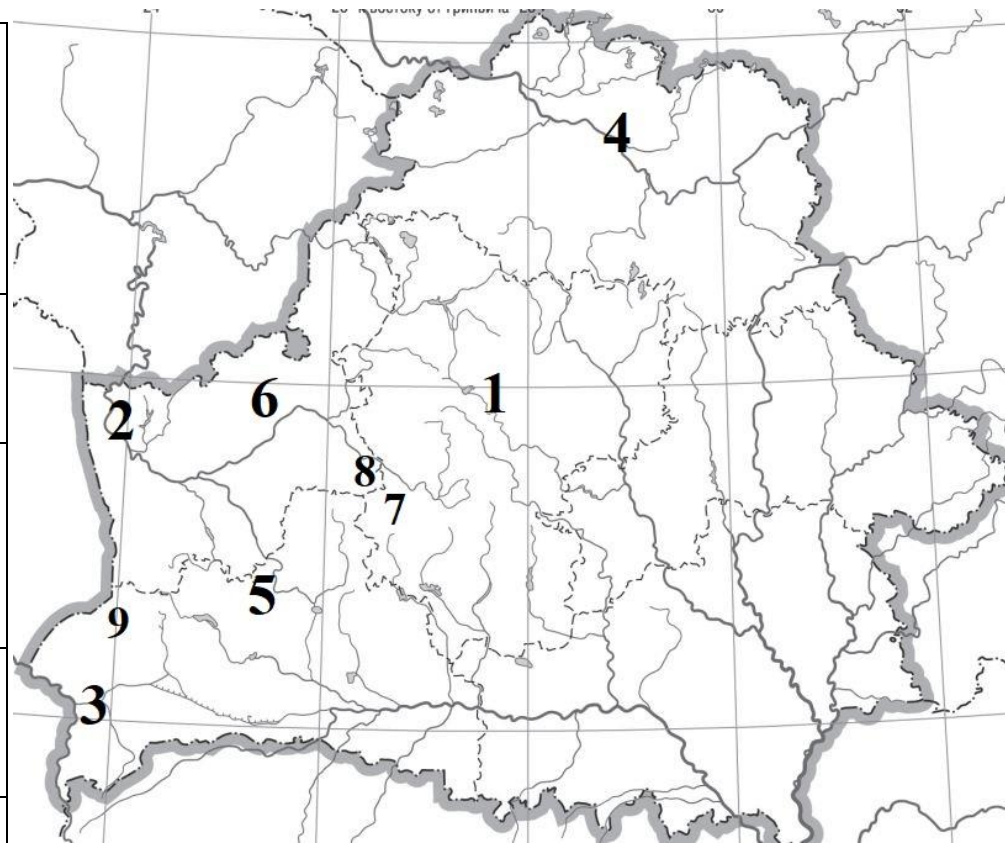
Ответ _____

Т	Ъ	И	Ъ	У	Д	Ы	Щ	Н	Ф	С	Я	Ф	Л	П	Э	Щ	Г
Р	Р	К	У	Б	Ы	Ш	К	А	В	С	К	Г	Ш	Ч	З	У	П
Д	Ё	Э	Э	Ф	П	Ь	Ь	Я	Д	Г	З	Р	Т	Б	И	Ь	Ь
Э	К	Э	С	Б	Л	Я	Б	Э	Х	Т	Б	А	Р	С	У	К	Б
Ш	Ш	Щ	Ю	О	Ю	Э	Ц	З	Ё	И	Ц	Н	П	Ё	А	Ъ	Ч
Р	Ы	Ч	П	Х	Щ	П	М	Е	О	З	Г	Э	Л	Ш	В	Б	К
Н	Д	Ж	Ы	К	Ш	Ю	Й	Т	С	П	Л	Ю	Ш	К	А	Р	Б
Т	Й	Э	Я	Ч	Ж	А	Э	Т	Ё	Ъ	Ж	И	К	И	Ш	О	Е
И	Г	Р	Ж	Э	З	Ю	Е	Э	Ж	С	Ш	И	Ы	З	Л	М	Ё
Ё	Й	Ж	М	Я	Щ	Ц	Ф	С	Т	Е	Р	Л	Я	Д	Ь	Е	Л
Д	Б	Ц	О	Ч	Ф	Ь	Я	Н	Х	Е	Ё	К	Г	Ф	Л	Д	П
А	Ч	Ц	К	Р	Я	К	К	У	В	Ш	И	Н	К	А	Б	Я	Щ
Ю	У	Б	Ь	И	Л	П	К	Ч	А	М	Щ	С	Щ	Е	У	Н	С
К	Ч	Э	Г	Ч	Л	П	О	Л	Ч	О	К	Ш	Т	Й	Ы	К	Ж
Щ	В	Й	Т	Ч	Ё	Щ	Д	Р	З	Ц	Й	Я	И	В	Н	А	Ю
Р	Ш	А	Л	Ф	Е	Й	Ю	Ф	У	Б	Н	Р	Ч	А	У	Й	Ю
П	К	Г	У	А	А	Ь	Р	Д	У	П	Е	Л	Ь	И	Ь	И	К
Д	Ю	Д	А	У	Э	Г	К	Ч	Т	Й	Ё	Ф	Й	Ё	Щ	Д	Ч

Задание 4. Достопримечательности Беларуси.

Запишите названия достопримечательностей и запишите **цифру**, которой обозначен на карте город, где они находятся.

		
Название: _____	Название: _____	Название: _____
Цифра города: ____	Цифра города: ____	Цифра города: ____
		
Название: _____	Название: _____	Название: _____
Цифра города: ____	Цифра города: ____	Цифра города: ____
		
Название: _____	Название: _____	Название: _____



Цифра города: ____	Цифра города: ____	Цифра города: ____
--------------------	--------------------	--------------------